

# Module A42

## Réseaux : architectures, modèles, et protocoles

### Travaux Dirigés Série n°2 – 3 heures

#### 1. Classes d'adresses

Q1. Une station appartenant à un réseau local possède l'adresse 193.48.251.26.

1) Quelle est la classe d'adresse de ce réseau local ?

(193) en base 2 s'écrit 11000001, le préfixe 110 indique qu'il s'agit de classe C

2) Quel est le nombre maximal de stations dans ce réseau ?

Dans une classe, l'identificateur de machine est sur le dernier octet, donc on peut avoir  $2^8 - 2 = 254$  stations au maximum dans ce réseau.

Q2. Lequel des hôtes ci-après doit utiliser un routeur pour communiquer avec l'hôte 129.23.144.10 si le masque de sous-réseau est 255.255.192.0 ?

129.23.144.10 est une adresse de classe B. Les sous-réseaux sont définis à partir de l'octet 3 du masque de sous-réseaux.

(192) en base 2 = 11000000, donc l'identificateur de sous-réseaux est sur 2 bits.

(144) en base 2 = 10010000, donc la machine 129.23.144.10 se trouve dans le sous-réseau (10) en binaire.

- 129.23.191.21 - cette machine a le même identificateur de réseau (129.23) et (191) en base 2 = 10111111, donc se trouve dans le sous réseau (10), donc pas besoin de routeur.
- 129.23.127.222 - cette machine a le même identificateur de réseau (129.23) et (127) en base 2 = 1111111, donc se trouve dans le sous réseau (11), donc a besoin de routeur.
- 129.23.130.33 - cette machine a le même identificateur de réseau (129.23) et (130) en base 2 = 1000010, donc se trouve dans le sous réseau (10), donc pas besoin de routeur.
- 129.23.148.127 - cette machine a le même identificateur de réseau (129.23) et (148) en base 2 = 10010100, donc se trouve dans le sous réseau (10), donc pas besoin de routeur.

Q3. Quelles adresses IP se trouvent sur le même sous-réseau que 130.12.127.231 si le masque de sous-réseau est 255.255.192.0 ?

- 130.45.130.1 Non [je vous laisse le soin de voir pourquoi et d'étayer votre réponse]
- 130.22.130.1 Non [je vous laisse le soin de voir pourquoi et d'étayer votre réponse]
- 130.12.64.23 Oui [je vous laisse le soin de voir pourquoi et d'étayer votre réponse]
- 130.12.167.127 Non [je vous laisse le soin de voir pourquoi et d'étayer votre réponse]

## 2. Adressage MAC & IP

- Q1.
1. Quelle est la différence entre une adresse IP et une adresse MAC ?  
D'un point de vue taille : l'@MAC=6  
l'@IP=4  
D'un point de vue type : l'@MAC est **physique** et donc liée à la carte (bridée dans le firmware), elle ne peut jamais être modifiée.  
l'@IP est **logique**. Elle est aussi liée à la carte, mais de manière logicielle, ce qui permet de l'affecter selon le réseau dans lequel elle se trouve. Elle peut être modifiée à la demande.  
D'un point de vue niveau : l'@MAC est considérée et traitée au niveau 2.  
l'@IP est considérée et traitée au niveau 3.
  2. En installant une nouvelle machine sur un réseau Ethernet, est-il nécessaire de vérifier qu'aucun autre ordinateur ne dispose de la même adresse MAC ? De la même adresse IP ?  
Non : les @ MAC sont uniques et bridées dans les cartes réseaux, @MAC=(id constructeur sur 3 octets, id de la carte chez ce constructeur sur les 3 autres octets). On a une garantie que le constructeur ne fabrique pas deux cartes avec la même adresse. Donc pas besoin de vérifier.  
Oui : les @ IP sont logiques et attribuées par un utilisateur. Donc peut donner une @ qui existe dans le réseau. D'où l'utilité de vérifier.
  4. Y a-t-il une différence en terme de prévision du nombre d'adresses IP publiques nécessaires dans les cas suivants :
    - allocation statique
    - allocation dynamique par DHCP
    - utilisation d'adresses privées converties en adresses publiques par NAT

Oui,

    - autant d'adresses que de machines dans le réseau
    - on peut avoir moins d'adresses que de machines dans le réseau
    - on peut avoir une ou quelques adresses publiques pour sortir sur Internet avec le NAT.
  5. Peut-on initier un transfert de données vers une machine qui possède une adresse privée ?  
Non. Si on est dans l'Internet publique. Un paquet qui contient une adresse privée comme adresse destination n'est pas routé et donc détruit.  
Oui. Si on est dans le même réseau privé.

## 3. IP, fragmentation/réassemblage

- Q1.
- La couche transport d'une station A prépare un message de 3500 octets (en-tête transport inclus) à destination d'une station B. Les machines sont séparées par deux routeurs R1 et R2. Les MTU des réseaux sont les suivantes :
- entre A et R1 : MTU = 4096 octets
  - entre R1 et R2 : MTU = 512 octets
  - entre R2 et B : MTU = 2048 octets
1. Quelles zones de l'en-tête IP sont modifiées lors de la circulation d'un fragment dans l'interconnexion ?  
Longueur totale, si fragmentation sur le parcours  
Le bit M, si fragmentation sur le parcours  
Le déplacement (Fragment Offset), si fragmentation sur le parcours  
TTL, à chaque saut  
CRC, à chaque saut (car au moins le TTL change)
  2. Quels sont les avantages et les désavantages d'un contrôle d'erreur sur l'en-tête ?  
Avantages :  
Éviter les erreurs glissées dans l'entête (ex. adresse source ou destination),  
Uniquement sur l'entête pour éviter un long traitement au niveau des routeurs.  
Désavantages :  
Aucun contrôle sur les données

3. Quels sont les avantages de la reconstruction d'un datagramme chez le destinataire ?
  - simplifier le traitement au niveau des routeurs (best effort)
  - les paquets prennent des chemins différents.
4. Comment est acheminé le datagramme entre A et B ? Faire un schéma détaillant les en-têtes des différents fragments.

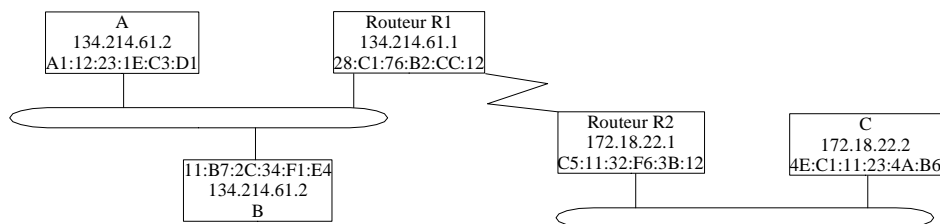
**Voir Schéma qui a été traité en TD.**

**Normalement tous les groupes de TD ont du avoir la correction de cette exercice et donc eu le schéma.**

5. Les chemins suivis par des fragments successifs d'un même datagramme IP sont-ils différents ? Cela pose-t-il problème ? Lesquels ?
  - Oui.
  - Non, le réassemblage est fait à la destination.
  - Aucun.
6. Refaire la question 4 avec les MTU suivantes : 2048 octets entre A et R1, 4096 octets entre R1 et R2, et 1024 octets entre R2 et B.
  - Normalement là vous savez faire. A vous de jouer maintenant !!

#### 4. ARP

- Q1. 1. Quelles sont les principales adresses qu'une station apprend par ARP ?
  - Elle apprend toutes les adresses MAC du même réseau de diffusion (interfaces des machines y compris les interfaces des routeurs raccordés sur le même brin Ethernet).
- Q2. On étudie ici les protocoles de résolution d'adresses de type *Address Resolution Protocol* et *Reverse ARP* à travers deux scénarios : le premier où la station émettrice et la station réceptrice sont situées sur le même brin, le second où plusieurs réseaux de transit doivent être traversés.



1. A quel(s) moment(s) des paquets de type ARP sont-ils émis sur le réseau ? Cette émission est-elle périodique, systématique ou autre ? Peut-on envisager, dans certains cas, d'éviter l'émission de ce type de paquets ?
  - On émet une requête ARP à chaque fois qu'on voudrait parler avec une machine pour la première fois connaissant son adresse IP mais pas son adresse MAC.
  - Non. Au besoin uniquement.
  - Oui, après l'avoir fait la première fois, on enregistre la correspondance dans le cache ARP.
2. Qu'est-ce qu'un ARP gratuit (*Gratuitous ARP*) ? A quelle occasion voit-on ce type de paquets circuler ?
  - Un ARP gratuit est envoyé à chaque fois qu'une machine se raccorde pour la première fois physiquement sur le réseau de diffusion (après allumage, ou modification de l'@ IP). Il est envoyé pour vérifier si aucune machine dans le réseau ne dispose de la même adresse IP qu'elle, et pour s'annoncer dans le réseau avec son couple (adresse MAC, adresse IP)
3. La station A souhaite émettre un datagramme vers la station B. Expliquer l'enchaînement des requêtes.
  - A se rend compte que B est dans le même sous réseau qu'elle et donc doit lui remettre directement le datagramme en le diffusant sur le lien physique.
  - A envoie une requête ARP à B pour lui demander son @MAC.
  - B répond par une réponse ARP indiquant son @MAC.

A encapsule le datagramme dans une trame au niveau 2 en indiquant son @MAC comme source et l'@MAC de B comme destination.

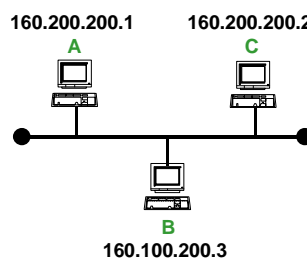
- Même question lorsque A souhaite émettre un datagramme vers C.  
A se rend compte que C n'est pas dans le même sous réseau qu'elle et sait qu'il doit passer le datagramme au routeur par défaut.  
A envoie une requête ARP à R1 pour lui demander l'@MAC de l'interface qui lui rattachée.  
R1 répond par une réponse ARP indiquant cette @MAC.  
A encapsule le datagramme dans une trame au niveau 2 en indiquant son @MAC comme source et l'@MAC de R1 comme destination.  
R1 route le paquet vers R2.  
R2 sait qu'il doit diffuser le paquet sur le lien qui le rattache au brin où se trouve C, il fait une requête ARP pour récupérer l'@MAC de C.  
C répond par une réponse ARP indiquant son @MAC.  
R2 encapsule le datagramme dans une trame au niveau 2 en indiquant son @MAC comme source et l'@MAC de C comme destination.

## 5. Masque de sous-réseau

- Q1. Une machine faisant partie d'un réseau local possède la configuration suivante :
- adresse IP : 192.168.54.53
  - masque : 255.255.255.240
- Combien ce réseau peut-il posséder de sous-réseaux avec ce masque de sous-réseau?  
(192) en base 2 s'écrit 11000000, donc on est dans une classe C.  
L'id sous réseau est désigné au niveau du 4<sup>ème</sup> octet.  
(240) en base 2 s'écrit 11110000, donc l'id sous réseau est sur les 4 premiers bits du 4<sup>ème</sup> octet.  
Avec 4 bits pour coder les sous réseau, on peut avoir  $2^4 = 16$  sous réseau possibles.  
Combien de machines par sous-réseau ?  
Comme il me reste que 4 bits dans l'octet 4 pour coder les machines par sous réseau, alors je peux avoir  $2^4 - 2 = 14$  machines par sous réseau.
  - Quel est l'adresse de sous-réseau?  
(53) en base 2 s'écrit 00110101, donc la machine 192.168.54.53 se trouve dans le sous réseau dont l'identifiant est (0011) en base 2. Par conséquent l'adresse de sous réseau où se trouve cette machine est 192.168.54.48
  - Quel est le numéro de la machine dans ce sous-réseau ?  
Le numéro de la machine dans ce sous réseau est (0101) en base 2 ou 5 en décimal.

## 6. Routage

- Q1. Soit une configuration des nœuds TCP/IP d'un réseau donnée par la figure suivante :



- Décrivez la procédure de routage des paquets et les empilements de protocoles mis en oeuvre lors d'un transfert de fichier de A vers C dans la configuration actuelle du réseau.

La machine A étant sur le même réseau que la machine C, par conséquent la communication devrait se passer par diffusion directe des trames sur le support.

L'application au niveau de la machine A prépare les données et les mets en paquets pour les donner à la couche transport. La couche transport de la machine A, encapsule chaque bloc de données dans un segment TCP et donne le segment à la couche IP. La couche IP encapsule le segment dans

un paquet IP et le donne à la couche 2 qui l'encapsule dans un trame Ethernet et la diffuse dans le support.

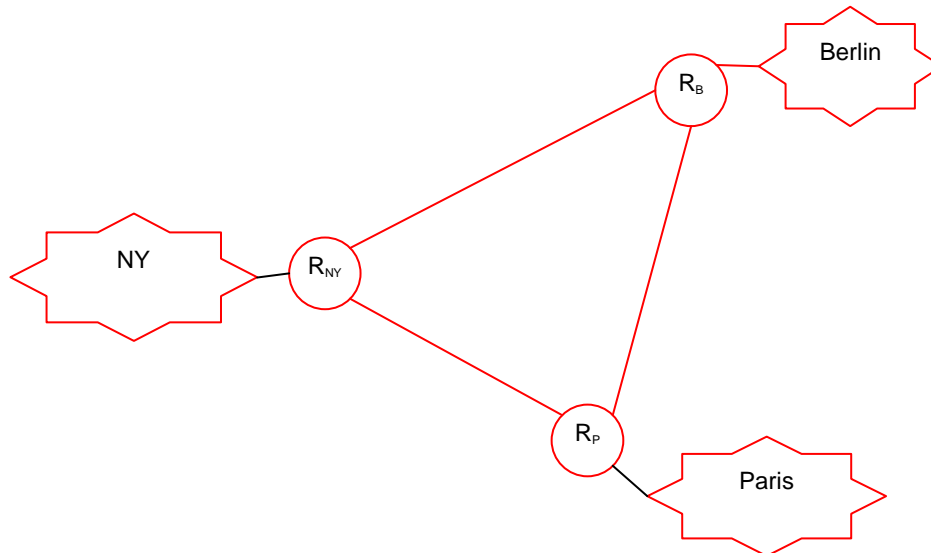
A réception, la machine B se reconnaît dans l'@MAC destination de la trame et la traite. Le paquet IP est "désencapsulé" et envoyé à la couche IP. La couche IP "désencapsule" le segment TCP et le donne à la couche au dessus, ainsi de suite ... jusqu'à l'application qui a généré les données. (Faire un schéma).

2. Décrivez la même procédure lors d'un transfert de A vers B.  
La machine A n'est pas dans le même réseau que la machine B. La communication au niveau IP n'est donc pas possible.
3. Comment améliorer cette architecture pour réaliser une communication complète et cohérente sans changer l'adressage des machines.  
On rajoute un routeur avec deux interfaces. Une interface qui sera configurée sur le réseau A et C et l'autre interface qui sera configurée sur le réseau de B. (faire un schéma).

## 7. Architectures de réseaux IP

Q1. Une organisation s'est vue attribuer le numéro de réseau 144.19.0.0. Elle possède trois sites, à Paris, à New York et à Berlin. Ces sites doivent être connectés les uns aux autres à l'aide de liaisons WAN (réseau étendu) point à point. Aucun des sites n'aura plus de mille nœuds TCP/IP.

1. Faites un schéma descriptif.



2. Indiquez comment vous utiliseriez des sous-réseaux avec cette affectation d'adresse et si vous utilisez un masque de sous-réseau uniforme pour toute l'organisation, quel serait-il ?

Tous les sites vont avoir au maximum 1000 adresses IP.

Comme  $2^9 < 1000 < 2^{10}$ , alors il nous faudra au moins 10 bits pour identifier les machines dans les sous-réseaux qui seront configurés.

(144) en base 2 = 10010000, donc le réseau est de classe B. Cela signifie que l'identifiant du réseau est sur les 2 premiers octets et l'identifiant de machine est sur les 2 derniers octets. Le masque de sous-réseau doit alors être déterminé sur la partie identifiant de sous-réseau de 16 bits, et comme on a trouvé que l'identifiant des machines dans les sous-réseaux doit être codé sur 10 bits, par conséquent l'identifiant de sous-réseau devra être sur les 6 bits restants.

Le masque de sous-réseau à affecter dans ce cas est : 255.255.252.0

3. Combien de sous-réseaux sont nécessaires ? Montrez les affectations d'adresses IP pour les ports du routeur et pour au moins deux hôtes de chaque réseau.  
On aura dans ce cas  $2^6 = 64$  sous-réseaux possibles.

Affectations d'@IP :

- Au niveau du réseau de NY :  
@IP1 : 144.19.2.10 d'une machine

@IP2 : 144.19.3.11 d'une machine  
@IP routeur : 144.19.1.1 vers le réseau de NY  
@IP routeur : 144.19.4.1 vers le routeur de Paris  
@IP routeur : 144.19.8.1 vers le routeur de Berlin

- Au niveau du réseau de Paris  
@IP1 : 144.19.12.10 d'une machine  
@IP2 : 144.19.13.10 d'une machine  
@IP routeur : 144.19.14.1 vers le réseau de Paris  
@IP routeur : 144.19.4.2 vers le réseau de NY.  
@IP routeur : 144.19.20.2 vers le réseau de Berlin.
- Au niveau du réseau de Berlin  
@IP1 : 144.19.16.10 d'une machine  
@IP2 : 144.19.17.10 d'une machine  
@IP routeur : 144.16.17.1 vers le réseau de Berlin  
@IP routeur : 144.19.8.2 vers le réseau de NY.  
@IP routeur : 144.19.20.1 vers le réseau de Paris.

Q2. Une organisation a demandé puis obtenu le numéro de réseau 133.24.0.0. L'organisation a l'intention d'utiliser des sous-réseaux ne dépassant pas 1000 nœuds TCP/IP chacun. Quel masque de sous-réseau permettra d'obtenir le maximum de sous-réseaux ? Etapez votre réponse.

Idem qui ci-dessous (même raisonnement) !!